

Sexto grado

Cuadernillo de actividades



Semana 12 y 13: del
11 al 22 de
noviembre

Nombre del alumno(a):

Escuela:

Grado: Grupo:

Ciclo escolar 2024-2025



Anexo 1: Manifestaciones culturales



¿Cómo buscarlo en YouTube?

Observa el siguiente video

<https://www.youtube.com/watch?v=0ssDfU4cS6A>



profa kempis manifestaciones culturales

Se refiere al conjunto de valores, _____ y modos de comportamiento que les brinda a los individuos un sentido de _____

Identidad cultural




Las manifestaciones culturales son las danzas, las _____, la música, la vestimenta, la _____, las fiestas y _____ de cada lugar o región de nuestro país.

Ejemplo de manifestaciones culturales


Fiestas y _____



Gastronomía



Características



Forman parte de la _____ cultural de los pueblos y comunidades

Se _____ de generación en _____

Pueden ser tangibles o intangibles

Pueden modificarse o _____ a lo largo del tiempo

Artesanías



De origen otomí, de un _____ de Querétaro


Platillo _____
Danzas _____ de Oaxaca




Se baila en Sinaloa y _____

Anexo 2: Manifestaciones artísticas


Dibuja cada una de las manifestaciones artísticas que se te indican:



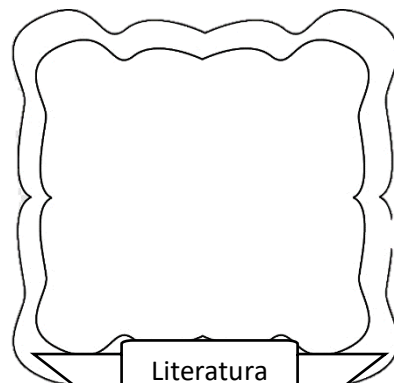
Música




Arquitectura



Pintura



Literatura



Anexo 3: El muralismo mexicano

Observa el video y responde:

https://www.youtube.com/watch?v=UVZv_aPvEUA

¿Cómo buscarlo en YouTube?



🔍 Profa Kempis El muralismo mexicano



Diego

Pegar aquí

Es el pintor mural mexicano más conocido. Él creía en el _____ como una forma de combatir la _____, un instrumento revolucionario.



Pegar aquí

En _____ fundó el Sindicato de obreros, técnicos, pintores y escultores (SOTPE).

Investigó el uso de nuevos materiales como la fibra de _____ y técnicas como los _____.



Alfaro Siqueiros



José Clemente

Pegar aquí

Fue el más influido de los muralistas mexicanos por el _____.

Entiende que lo prehispánico y lo _____ se entrelazan en un proceso conflictivo

Características del muralismo:

- Monumentalidad
- Temas del _____ mexicano
- Técnicas: el fresco y la _____
- Estilo _____



Anexo 4: ¡Esto no es sólo una pared pintada! ¡Es un mundo!

Lee el texto de la página 148 a la 151 del libro de Múltiples Lenguajes y contesta lo que se te pide:



¿Qué expresan en las paredes?



Anexo 5: Área y perímetro del rectángulo

Observa el siguiente video y contesta lo que se pide:

<https://www.youtube.com/watch?v=gttgKCL5kw8&t=398s>


¿Cómo buscarlo en YouTube?



Q Profa Kempis Área y perímetro del rectángulo


Un rectángulo es una figura _____ que se caracteriza por:

- ☐ Está formado por cuatro líneas rectas.
- ☐ Tiene lados _____ paralelos y de igual _____
- ☐ Es un _____ porque tiene cuatro lados.
- ☐ Tiene cuatro ángulos rectos.



El perímetro es la medida del _____ de una figura o forma.

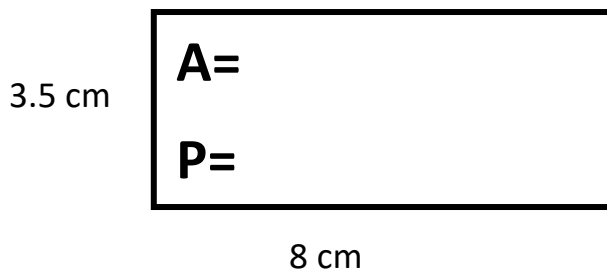
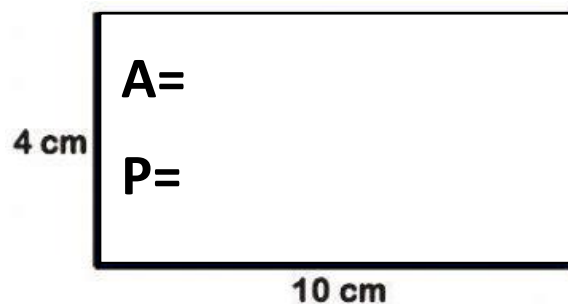
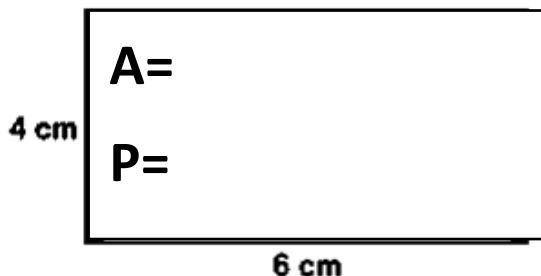
P= _____



El área de una figura es la cantidad de _____ que hay _____ de ella

A= _____


Obtén el área y perímetro de los siguientes rectángulos:



Anexo 6: ¿Cuál es el área y perímetro del mural?

Observa los murales que hicieron los pintores y obtén su área y perímetro de cada una, observa el número del pintor para llenar la tabla:

17 m




25 m

31 m



20.5 m



19 m

48 m

Mural	Área	Perímetro
1		
2		
3		

¿Quién pinto más superficie?

¿Quién pinto menos superficie?

Anexo 7: Los ecosistemas




¿Cómo buscarlo en YouTube?

Observa el siguiente video y contesta lo que se pide, después pega todos los recuadros en la parte donde se indica:

<https://www.youtube.com/watch?v=3J0RqSO2Sq0>



Q Profa Kempis Ecosistemas



LOS ECOSISTEMAS

Pegar aquí



ECOSISTEMA

Es el conjunto de seres vivos (factores _____) y condiciones _____ (factores _____) relacionados estrechamente y que _____ determinado lugar

Pegar aquí

En el eje Neovolcánico, la sierra Madre _____ y _____



Principal fuente de _____ del país

BOSQUE DE CONIFERAS

Pegar aquí

.Es el más _____ del país

FLORA: Pino _____, ocotes, _____ y roble

FAUNA: Lince, _____, armadillo, tlacuache, _____ gris



BOSQUE DE PINO ENCINO

Pegar aquí

De algunas _____ se obtienen frutos, _____ de cactáceas (tunas) y _____ para leña o carbón


Escasez de _____ la mayor parte del año y _____ extremas en el día y la noche



DESERTO

Pegar aquí

Son un tipo de ecosistemas de _____ intermareales Son llamados también bosques _____ y humedales




ESTUARIOS Y _____

Anexo 8: Problemas ambientales en el mundo

Recorta la siguiente tabla y pégala en tu cuaderno, debajo de cada pestaña escribe lo que se solicita de acuerdo a tu comunidad:

ECOSISTEMA DE MI COMUNIDAD

Tipo de ecosistema



Flora



Fauna

Características de la localidad que permite su desarrollo

Cambios en el entorno



Anexo 9: Problemas ambientales en el mundo



Observa el siguiente video

https://www.youtube.com/watch?v=6mY_GcJxa4w&t=142s

¿Cómo buscarlo en YouTube?



profa kempis problemas ambientales en el mundo



CONTAMINACIÓN DEL AIRE



ACCIONES PARA DISMINUIR EL CALENTAMIENTO GLOBAL



CALENTAMIENTO GLOBAL



DEFORESTACIÓN



LA BASURA



CONTAMINACIÓN DEL AGUA



Anexo 10: Cadenas alimentarias o cadenas tróficas

¿Cómo buscarlo en YouTube?



Observa el siguiente video y completa:

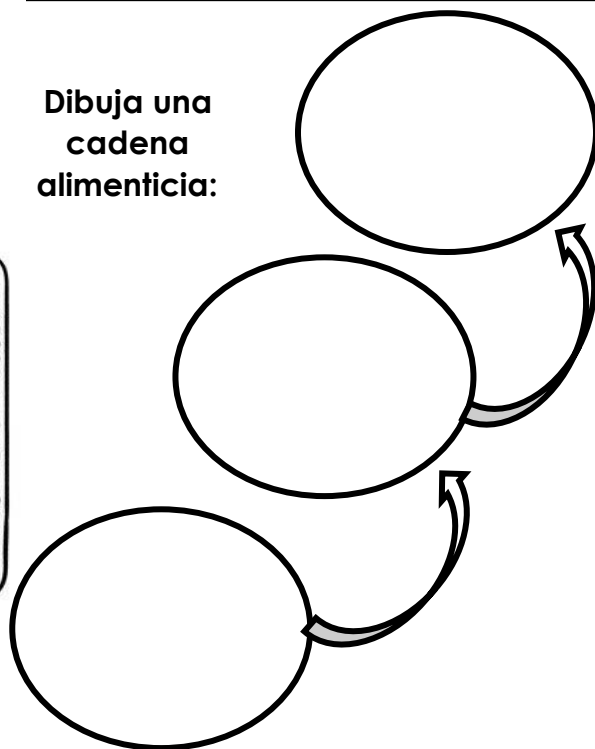
<https://www.youtube.com/watch?v=7bsvbqvw3RQ>

Profa kempis Cadenas alimentarias




Es el proceso de _____ de energía alimenticia a través de una serie de _____, en el que cada uno se alimenta del _____ y es alimento del siguiente.

Dibuja una
cadena
alimenticia:



En las cadenas alimentarias hay:

D _____




Son los encargados de _____ los organismos muertos para reintegrar la _____ al ambiente.



Son incapaces de producir su propio alimento.
Son organismos _____.



Productores



Son los que producen su propio alimento a partir de la _____ solar, del _____ y del dióxido de carbono.

Anexo 11: Las cadenas alimenticias

Recorta y pega los elementos para conformar cada cadena alimenticia:

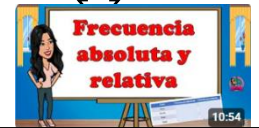


Anexo 12: Frecuencia relativa y absoluta

Observa el siguiente video y contesta:

<https://www.youtube.com/watch?v=CpH4QTN8eyY>

¿Cómo buscarlo en YouTube?



Q Profa Kempis Frecuencia absoluta y relativa

Las tablas de frecuencia son _____ estadísticas que organizan y _____ la información de los datos estadísticos en una _____

Postre	Frecuencia absoluta	Frecuencia relativa
Pastel	2	
Helados	4	
Donas	3	
Total		

La frecuencia relativa es la _____ que representa la frecuencia _____ en relación con el _____.

Es el _____ de veces que se _____ un dato

Se realizó una encuesta a los siguientes niños sobre su fruta favorita, observa sus respuestas y obtén la frecuencia absoluta y relativa:

Color	Frecuencia absoluta	Frecuencia relativa
Fresa		
Pera		
Mango		
Total		

Frecuencia absoluta
Para cada valor _____, cuenta cuántas veces _____ en los datos.



La frecuencia _____ es el cociente entre la frecuencia _____ y el tamaño _____ de la muestra.

Anexo 13: ¿Cuál es la frecuencia relativa y absoluta?

En el salón de Susana se les preguntó a los niños sobre su destino favorito en vacaciones, las respuestas fueron las siguientes:

[illegible]

Ayúdales a conocer la frecuencia absoluta y la frecuencia relativa de sus votaciones:

Lugar	Frecuencia absoluta	Frecuencia relativa
Campo		
Playa		
Museos		
Ciudad		
Casa		
Total		

¿Cuál fue el lugar más votado para ir en vacaciones? _____

¿Cuál fue la frecuencia relativa del lugar más votado? _____



Anexo 14: ¡Conozcamos la historia!

Lee el siguiente texto y contesta lo que se te pide:



TRAS LOS PASOS DE ADELITA

UN PERSONAJE HISTÓRICO QUE SE CONVIRTIÓ EN LEYENDA. SU NOMBRE IDENTIFICA A LAS REVOLUCIONARIAS.

ORIGEN

Nació en Ciudad Juárez, Chihuahua el 8 de septiembre de 1900, en el seno de una familia de comerciantes acomodados. Historiadores cuentan que a los 13 años, se rebeló a su padre y se incorporó a la Cruz Blanca para ser enfermera, fue entonces como se unió al grupo revolucionario de Leonor Villegas de Manón.



EL 7 DE FEBRERO DE 1913

Por primera vez subió al tren de enfermería en la Ciudad de Chihuahua, en este momento surgió la famosa fotografía de Jerónimo Hernández, en la que se ve a un grupo de mujeres con rebozos en las escaleras del transporte.

SU AMOR

En esa época conoció al sargento de las Fuerzas de Francisco Villa, y del Río Armenta, con quien sostuvo una relación amorosa por un año, la cual terminó cuando él perdió la vida en la batalla de Gómez Palacio.



Fruto de este amor, tuvo un hijo, quien también murió sirviendo en la Segunda Guerra Mundial. Según la historia, Antonio Gil fue el compositor del famoso corrido revolucionario, "La Adelita", ya que le llevaba serenata al tren de enfermería.

SIGUIÓ SU LUCHA

Pese a la pérdida de su amor, ella siguió trabajando con los soldados. En 1916, participó en contra de la Usurpación Huertista, en donde se luchó para evitar que Adolfo Huerta fuera presidente del país.



TRAS LA REVOLUCIÓN

Por dicha acción se le consideró oficialmente veterana de la Revolución el 22 de febrero de 1941. Cuando la Secretaría de la Defensa le otorgó en vida la Condecoración al Mérito Revolucionario. Veinte años después, el Congreso de la Unión le dio una pensión vitalicia.



EN 1962, FUE NOMBRADA MIEMBRO DE LA LEGIÓN DE HONOR MEXICANA. MURIÓ EL 4 DE SEPTIEMBRE EN CIUDAD DEL RÍO, TEXAS.

Sombrero de la época

Carrilleras

Blusa de yute o manta

¿A época de la historia pertenece la información?

¿Qué conoces sobre el tema?

¿Qué personajes importantes estuvieron en esa época?

Anexo 15: El Porfiriato



¿Cómo buscarlo en YouTube?



Observa el siguiente video, completa con la información:

https://www.youtube.com/watch?v=shgOgTPoi_0

Q Profa Kempis El porfiriato

Porfirio Díaz fue presidente de México durante más de ____ años, de ____ a _____. Su periodo de gobierno es conocido como "El _____".

El primer periodo de Porfirio Díaz como presidente de México fue del ____ de ____ de 1876 al 30 de ____ de _____.



Logró el pago de la _____ externa a Estados Unidos por medio de breves cantidades abonadas en un plazo de _____ años.

Logró el pago de la deuda _____ a Estados Unidos por medio de breves cantidades abonadas en un plazo de ____ años.

En ____: Díaz vuelve a reelegirse.

Las jornadas de los obreros y peones era de ____ a ____ horas diarias y recibían un salario que no alcanzaba para cubrir sus necesidades básicas. Se les pagaba con _____ para comprar en las tiendas de _____ que pertenecían a los propios _____ y donde se vendía a costos muy altos

Durante el Porfiriato se desarrollaron las industrias _____, tabacalera, _____, minera y _____, muchas de las fábricas que destacaron eran propietarias de franceses.

Porfirio Díaz renunció a la presidencia el ____ de ____ de _____, tras firmar los Tratados de _____. Su salida del país fue rápida y discreta ya que sabía que renunciar implicaba el exilio

Logros de Porfirio Díaz



La construcción de _____ fue una de las características más importantes durante el Porfiriato

Cuando Díaz llegó al poder, en 1877, México tenía solo ____ km de vías férreas. Las vías férreas del ferrocarril aumentaron de ____ km en el año 1884 a _____ km en 1910.

En 1881 se inauguró el cable _____ para la comunicación _____ entre México y Europa. Se modernizó la _____ y los comercios, la _____ comenzó la exportación.

Anexo 16: El Plan de Tuxtepec y el inicio del Porfiriato

Lee de la página 218 a la 227 del libro Nuestros Saberes México Grandeza y diversidad y contesta el siguiente crucigrama:



Horizontal

1. Se ubicaban principalmente en la región central de la República Mexicana
3. Con el proyecto de reconstrucción del país, Díaz pretendía hacer de México una nación _____
6. Con la _____ de Colonización, Ocupación y Enajenación de Terrenos Baldíos, el gobierno buscó establecer haciendas, ranchos y c _____
10. Durante el porfiriato se amplió la red telegráfica, se mejoró el servicio de correo y se introdujo el _____
11. ¿cómo se le llamaba al impuesto que se cobraba por permitir el paso de productos de un lugar a otro dentro del país?
13. Medio de transporte que fue más rápido, seguro y barato

Vertical

1. Ganaban menos y no participaban en las elecciones
2. Fábrica que destacó en Orizaba y Córdoba
4. El gobierno se enfocó en que esta actividad dejara de ser de autoconsumo para exportar alimentos y materias primas necesarias
5. En 1876 el Ferrocarril Mexicano iba de _____ a la Ciudad de México
7. ¿Qué se sembraba en La Laguna, región entre Durango y Coahuila?
8. Tipo de minería que se desarrolló principalmente en el norte del país
9. Porfirio Díaz, después de derrotar a Lerdo de Tejada y ganar las elecciones buscó controlar al ejército federal y debilitar e _____
12. Tipo de industria que surgió a raíz de la primera ley expedida en 1901

Anexo 17: librito de la Revolución Mexicana







¿Cómo buscarlo en YouTube?


Observa el siguiente video y arma tu librito revolucionario:

<https://www.youtube.com/watch?v=7GJVPhyPLKM>



🔍 Profa Kempis La revolución mexicana

<p>Tras la _____ de Benito Juárez. Díaz lanzó el "Plan de la _____"</p>  <p>En _____, tras su muerte, Sebastián Lerdo de Tejada es nombrado _____</p>	<h3>LA REVOLUCIÓN MEXICANA</h3> 	<h3>Causas</h3>  <ul style="list-style-type: none">*La desigualdad social*La _____ laboral*No existía la libertad _____* _____ de tierras a los campesinos y creación de _____	<h3>PNA</h3> <p>Madero crea el Partido Nacional _____</p> <p>(PNA) cuyo lema era "Sufragio efectivo, No _____"</p> 
--	--	---	---

<h3>Aguilón, Máximo y Carmen Serdán</h3>  <p>La muerte de los hermanos al enfrentarse con las fuerzas del _____ los llevó a ser considerados los primeros "_____ del movimiento contra _____"</p>	<h3>1ª elección democrática</h3> <p>En _____ se llevan a cabo las elecciones y Francisco I. Madero _____ la votación asumiendo la presidencia de México el ____ de _____ de 1911</p>	<h3>Emiliano Zapata</h3> <p>Exigía que se expidiera una ley _____, a cambio Madero, le pidió entregar las armas, Zapata no aceptó y dio a conocer el Plan de _____</p>	<p>Con el "Plan de _____" Carranza enfocó la lucha revolucionaria contra _____</p> <p>Carranza llamó a un Congreso _____ que redactó la Constitución el 5 de _____ de 1917. Con este hecho _____ la Revolución Mexicana.</p>
--	--	--	--

Anexo 18: Constitución de 1917

Observa el siguiente video, recorta y pega donde corresponda:

<https://www.youtube.com/watch?v=xS2QFUYyfb0>



¿Cómo buscarlo en YouTube?



Profa Kempis Constitución de 1917



Artículo
3°

Demanda
de la
Revolución

Venustiano
Carranza

Constitución
de
1917

¿Qué
establece
?

Caudillos

Anexo 19: La familia y su importancia

¿Cómo buscarlo en YouTube?

Observa el siguiente video y contesta con la información correspondiente:

<https://www.youtube.com/watch?v=UhRLKukNjPY>



Q Profa Kempis La familia y su importancia



Familia: Grupo de personas unidas por un _____



Importancia:

- *Te cuidan
- *Te _____
- *Protegen _____ tus derechos
- * Buscan tu _____ social y _____



Pega aquí

Padre, madre e _____

Pega aquí

Un solo _____ y los hijos

Pega aquí

Diversos familiares: padres, _____, abuelos, _____ y primos

Pega aquí

Parejas del mismo _____ con _____


Pega aquí

Conformada con la _____ de dos o _____ familias


Pega aquí

Familia sin _____ sanguíneo

Familia




Familia ensamblada o _____




_____ adoptiva



Familia



Familia



Familia



Anexo 20: Los tipos de familia

Leer "familia" de la página 195 y 196 del libro de Nuestros Saberes. Recorta el interactivo, pega por la parte sombreada de gris. Después, lee cada descripción y pégala debajo del tipo de familia al que se refiera.

Extensa	F A M I L I A S	Compuesta
Nuclear sin hijos		Nuclear monoparental
Nuclear biparental		Homoparental
De acogida		Sin núcleo

Familia nuclear y otros parientes, por ejemplo: abuelas, abuelos, tías, tíos.

Dos personas del mismo sexo con hijas o hijos.

Aquella certificada para cuidar y proteger de manera temporal a niñas, niños y adolescentes.

Una persona o pareja, con o sin hijos, más otras personas unidas por un vínculo legal.

Un solo padre, madre o tutor con hijas o hijos.

No existe una relación de pareja y no hay padre ni madre, pero existen otras relaciones de parentesco.

Dos personas sin hijos.

Dos personas con hijas o hijos.

Anexo 21: El árbol genealógico


Observa el siguiente video

<https://www.youtube.com/watch?v=8U0aVO8KUuc&t=150s>

¿Cómo buscarlo en YouTube?



Profa Kempis Historia familiar y el árbol genealógico



El árbol genealógico es una representación _____ en la que se muestra los _____ y los _____ de un individuo organizados _____ en forma de árbol

Para empezar a hacer un árbol genealógico vamos a empezar siempre de _____ hacia _____

En el tronco vamos a _____ lo que somos nosotros, después vamos a poner a nuestros _____



Para que un árbol genealógico sea más llamativo es preferible ponerle _____, además de que poder ir viendo los _____ físicos de la familia

Pasos para escribir la historia familiar



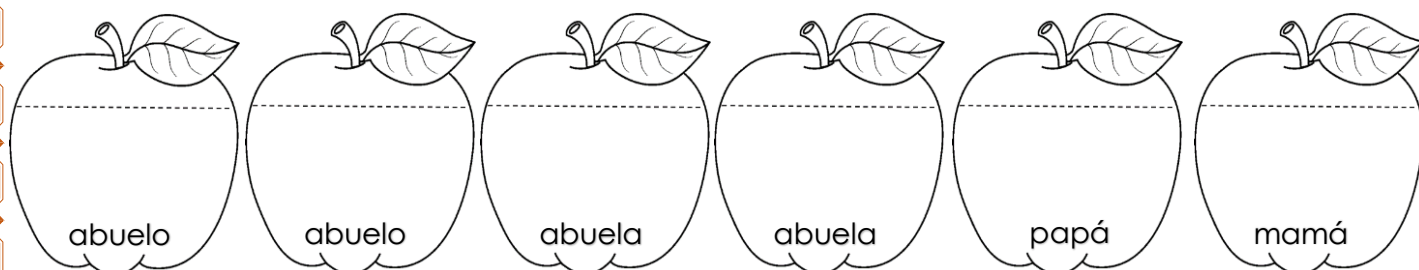

En el dibujo de la derecha:

- Colorea de verde la persona de quien se hace el árbol genealógico
- Pinta de azul la primera generación
- Colorea de rojo la familia paterna



Anexo 22: Mi árbol genealógico

Recorta las manzanas con los nombres de los integrantes de tu familia, dibújalos y pégalos en el árbol, colocando pegamento solo de la línea marcada hacia arriba, debajo de cada manzana escribe a qué se dedica cada uno de los integrantes de tu familia.



¡Siguenos en las redes para más material!

En las siguientes páginas de Facebook y YouTube encuentras todo el material de forma gratuita



<https://www.facebook.com/Profa-Kempis-105813251593792>



<https://www.youtube.com/channel/UC4mKdEYyM-zZZmkjRsaYENw>

En la página de Facebook Profa Kempis encontrarás cada semana las **planeaciones y cuadernillos de actividades (anexos)** para que puedas descargarlos de forma **gratuita**

<https://www.facebook.com/Profa-Kempis-105813251593792>



Q Profa Kempis

